

Nom :

Prénom :

Classe :

## Livret de préparation à la 3<sup>e</sup>

Programme d'Histoire-Géographie EMC [ Juin 2024 ]

### HISTOIRE

Thème 1 : L'Europe, un théâtre majeur des guerres totales

Thème 2 : Le monde depuis 1945

Thème 3 : Françaises et Français dans une République repensée

### GEOGRAPHIE

Thème 1 : Dynamiques territoriales de la France contemporaine

Thème 2 : Pourquoi et comment aménager le territoire ?

Thème 3 : La France et l'Union européenne

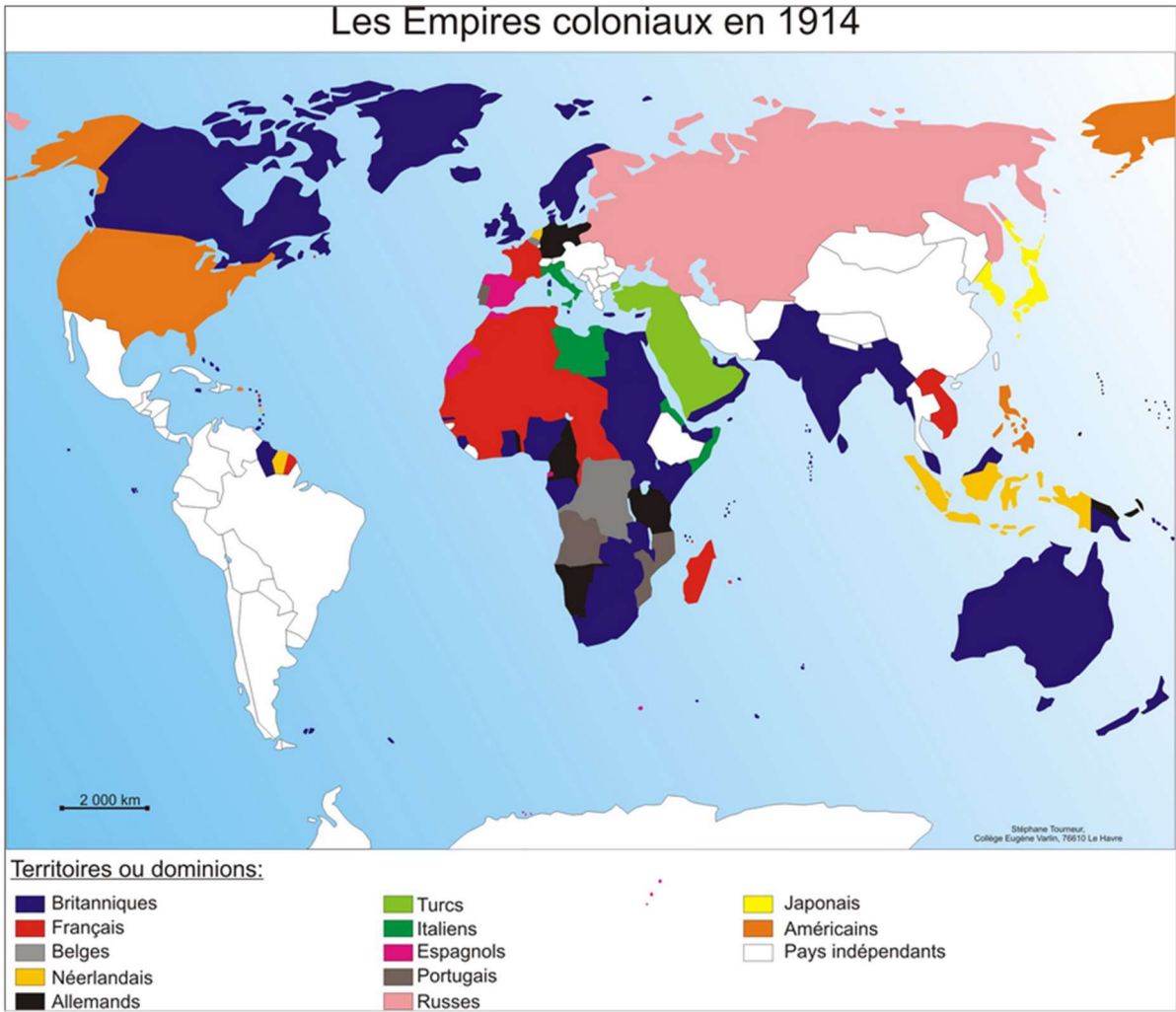
### EMC

-Construire le **respect** de soi, **respecter** autrui, la morale et l'éthique, le rôle de la **loi** dans une société ;

-Connaître les **principes**, **valeurs** et **symboles** de la citoyenneté française et de la **citoyenneté européenne**, comprendre les grands principes des sociétés **démocratiques**, reconnaître les grandes caractéristiques d'un **État** démocratique ;

-Le **vote** : un droit fondamental en démocratie, l'élection : la représentation citoyenne dans une démocratie, la **Défense** et la sécurité, **l'engagement** ou les engagements.

I-Rappels



**Colonisation** : Action d'occuper, d'administrer et d'exploiter un territoire par un pays étranger. .

II- Le monde en 1914 et le déclenchement de la Guerre.

→ A partir des 2 vidéos, répondez aux questions suivantes.



← Été 1914 : l'insouciance à la veille de la guerre [Lumni.fr, *Apocalypse : la Première Guerre mondiale*, 2014]

L'assassinat de François-Ferdinand à Sarajevo [Lumni.fr, *Apocalypse : la Première Guerre mondiale*, 2014] →



1-Comment est décrite l'Europe à la veille de la Première Guerre mondiale à l'été 1914 ?

.....

.....

.....

2-Par quel Etat la Bosnie est-elle annexée en 1908?

.....  
.....

3-Que se passe-t-il le 28 juin 1914 à Sarajevo ?

.....  
.....  
.....

4-Comment cet évènement est-il perçu par les Occidentaux ?

.....

5-Comment est surnommée cette région du monde par les Occidentaux ?

.....

6-En quelles années ont lieu les guerres balkaniques ?

.....

7-Qui sont les dirigeants mentionnés et quelles sont leurs préoccupations ?

	<u>Angleterre</u>	<u>France</u>	<u>Empire Austro-Hongrois</u>	<u>Russie</u>
<u>Dirigeant</u>	Roi .....	Président ..... .....	..... .....Franz Conrad von Hötendorf	..... Nicolas II
<u>Préoccupati- -tion</u>	Lutte de l'..... pour l'.....	Veut reconquérir la .....	Soumettre la .....	Protéger la population .....

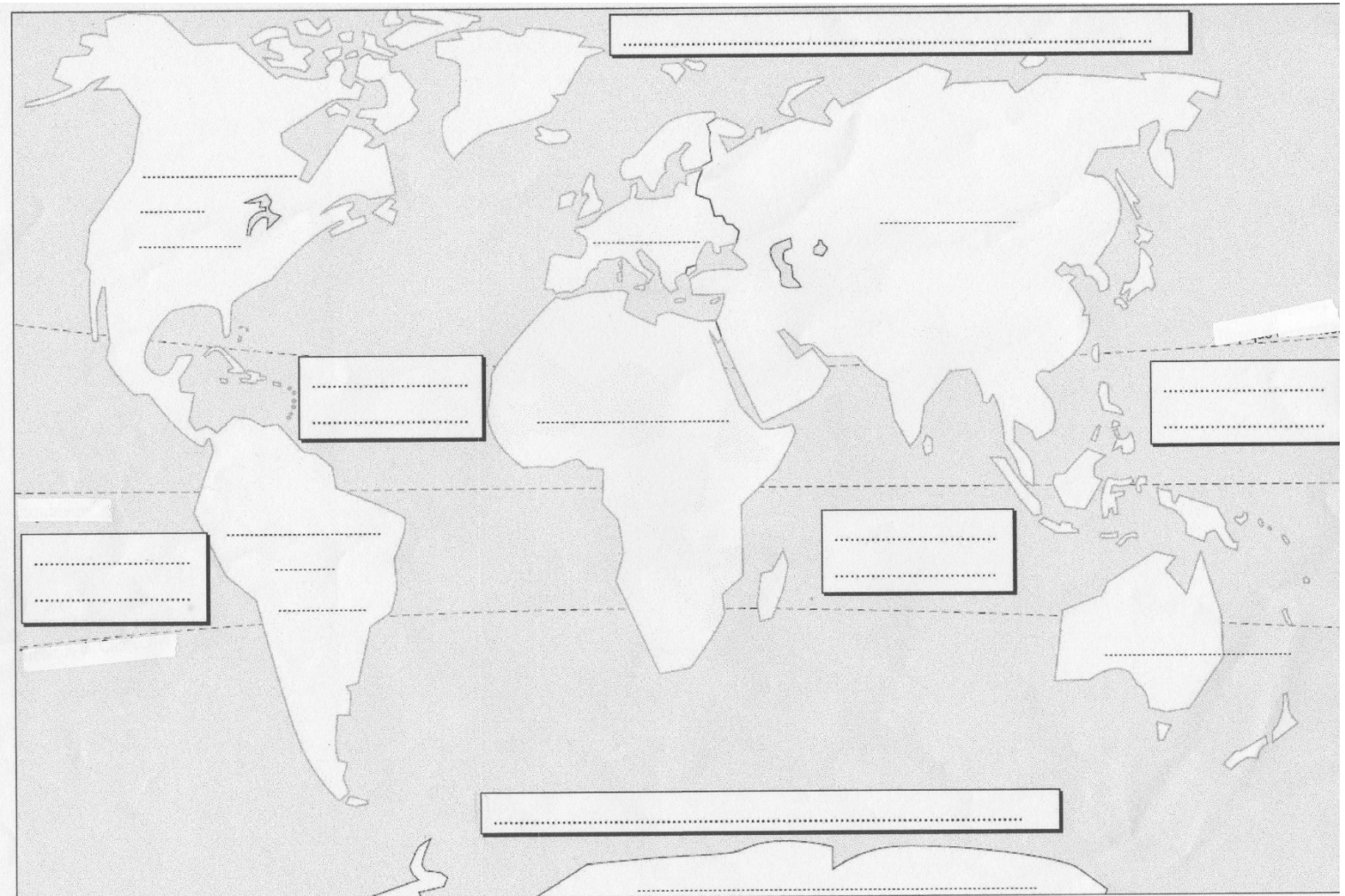
## Partie II : GEOGRAPHIE

### Carte 1 : Repères mondiaux

- Localiser et nommer au stylo **bleu** les océans suivants : Pacifique, Atlantique, Antarctique, Indien, Arctique.
- Localiser et nommer au stylo noir les continents suivants : Amérique, Asie, Afrique, Europe, Océanie, Antarctique.
- Colorier en **bleu** la mer Méditerranée.
- Localiser et nommer le détroit de Gibraltar.
- Localiser et nommer l'isthme de Suez et l'isthme de Panama.
- Localiser et nommer les grands parallèles : Équateur, Tropique du Cancer et Tropique du Capricorne.
- Réaliser une légende et donner un titre au planisphère.

**Titre :** .....

**Légende :**



## Carte 2 : Les grandes métropoles mondiales et des pays.

- a. Localiser et nommer 10 grandes métropoles mondiales au choix.
- b. Colorier en **vert** les États-Unis.
- c. Colorier en **bleu** la France métropolitaine.
- d. Colorier en **jaune** la Russie.
- f. Colorier en **orange** l'Inde.
- g. Colorier en **rouge** la Chine.
- h. Réaliser une légende et donner un titre.



**Titre :** .....

Légende :

### Carte 3 : Repères européens

Titre : \_\_\_\_\_



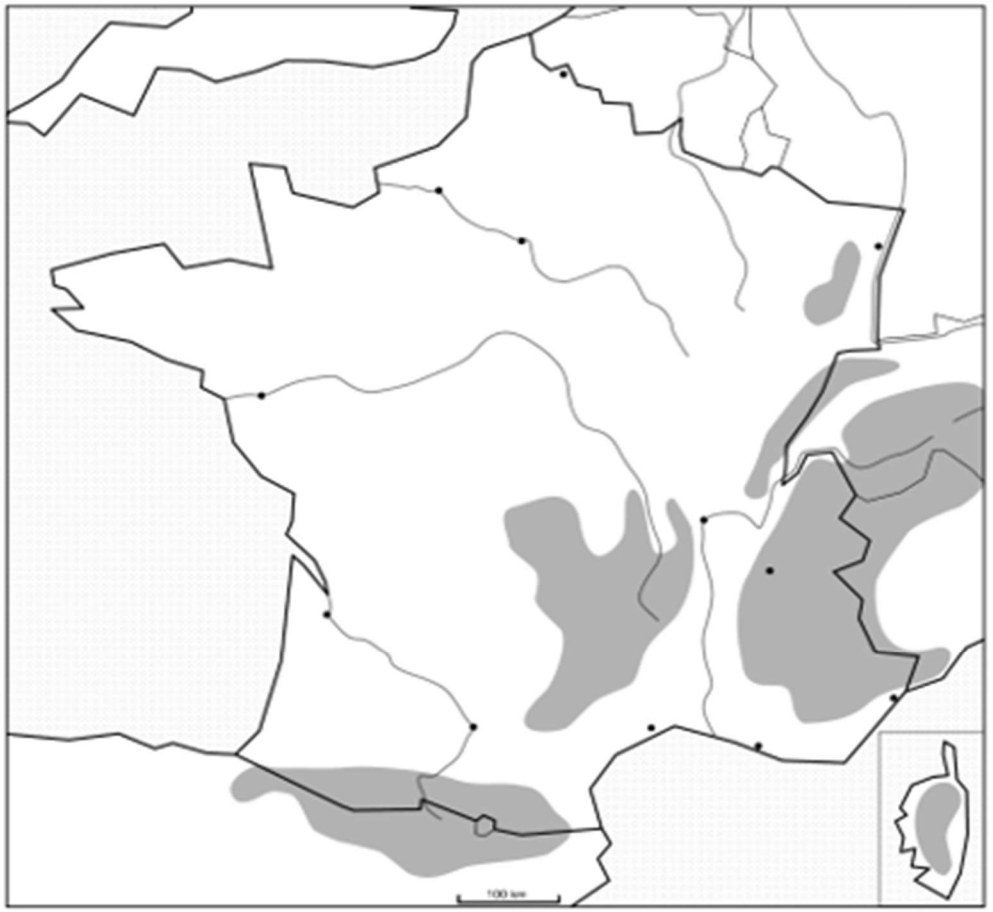
→ Indique en noir le nom des pays européens

→ Souligne en rouge le nom des pays faisant partie de l'Union européenne.

Légende :

## Carte 4 : Repères de la France métropolitaine

**Titre :**



**Légende :**

**1 : Les fleuves**

A  
B  
C  
D  
E

— : fleuve

**2 – Les chaînes de montagne**

1  
2  
3  
4  
5

: relief fort

### **ETAPE 1**

1 - Remplissez la légende :

- - En **bleu** : La Seine (A), la Loire (B), la Garonne (C), le Rhône (D), le Rhin (E),
- En **noir** : Les Pyrénées (1), les Alpes (2), le Massif central (3), le Jura (4), Les Vosges (5)

### **ETAPE 2**

1) Inscris le nom de l'**OCEAN** et des **mers** en bleu qui bordent la France

2) Inscris le nom des **PAYS** frontaliers

3) Repasse les **fleuves** au feutre fin bleu situe-les sur la carte.

4) Colorie les **zones de montagnes** en marron et situe-les sur la carte.

### **ETAPE 3**

Ecrire et souligner le titre en **rouge**:

« Carte des principaux repères géographiques de la France métropolitaine »

## Carte 5 : Repères administratifs de la France



→Indique en noir le nom des 13 régions.

- |                          |                     |                            |
|--------------------------|---------------------|----------------------------|
| -Auvergne Rhône Alpes    | -Grand-Est          | -Occitanie                 |
| -Bourgogne Franche Comté | -Haut de France     | -Pays de la Loire          |
| -Bretagne                | -Ile de France      | -Provence Alpe Cote d'Azur |
| -Centre Val de Loire     | -Nouvelle Aquitaine |                            |
| -Corse                   | -Normandie          |                            |

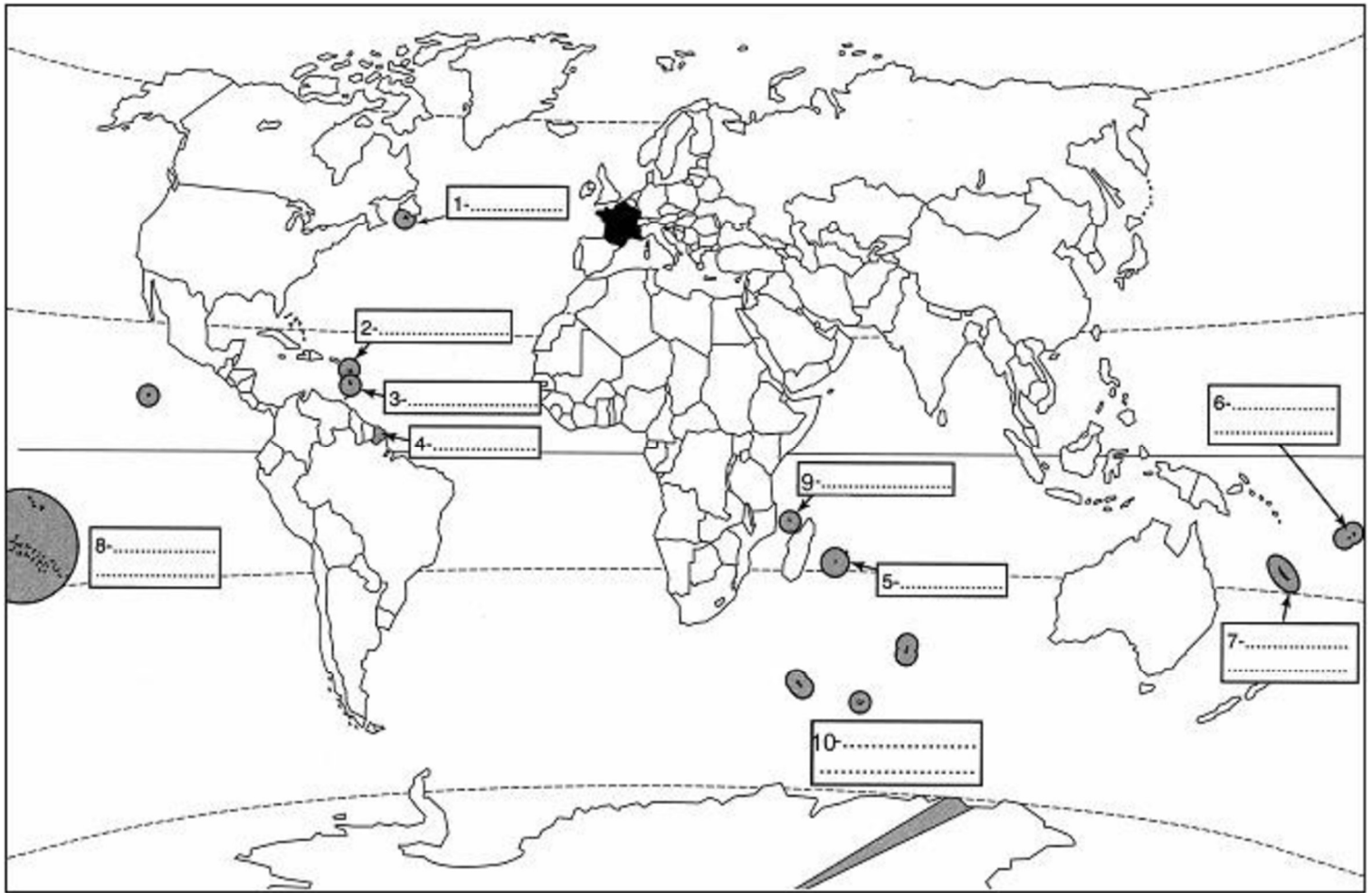
→Indique en rouge le nom des préfetures.

- |           |            |             |
|-----------|------------|-------------|
| -Ajaccio  | -Marseille | -Rouen      |
| -Bordeaux | -Nantes    | -Strasbourg |
| -Dijon    | -Orléans   | -Toulouse   |
| -Lille    | -Paris     |             |
| -Lyon     | -Rennes    |             |



## Carte 6 : Repères des territoires ultramarins français

Titre : \_\_\_\_\_



→Indique le nom des 5 **DROM** (départements et régions d'outre-mer) : Guadeloupe -  
Martinique - Guyane - Mayotte - La Réunion,

→Indique le nom des 3 **COM** (collectivités d'outre-mer) : Saint-Pierre-et-  
Miquelon - Polynésie française, Wallis-et-Futuna,

→Indique le nom des Terres australes et antarctiques françaises [**TAAF**]

→Indique le nom de la **collectivité sui generis** : Nouvelle Calédonie.

